

### VERIFICA DI GEOGRAFIA

1- Quali sono gli elementi che caratterizzano uno Stato: spiegali brevemente.

- IL \_\_\_\_\_  
\_\_\_\_\_  
\_\_\_\_\_
- LA \_\_\_\_\_  
\_\_\_\_\_  
\_\_\_\_\_
- LA \_\_\_\_\_  
\_\_\_\_\_  
\_\_\_\_\_

\_\_\_\_\_/3

2- I confini dello Stato Italiano

---

---

---

---

---

---

---

---

\_\_\_\_\_/2

3- Altre caratteristiche dell'Italia dal punto di vista politico:

---

---

---

---

---

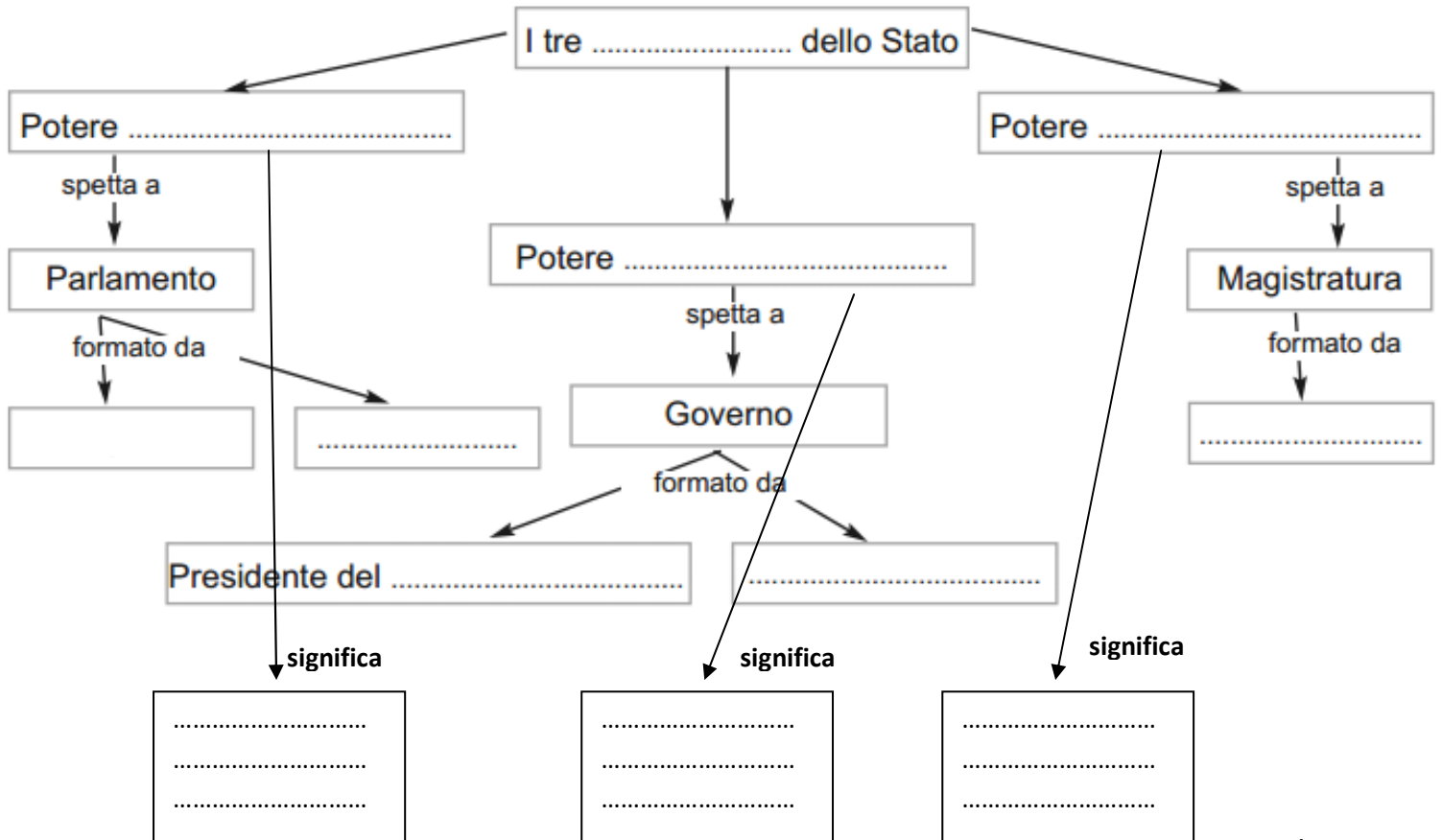
\_\_\_\_\_/2

3- Che forma di Governo ha l'Italia? \_\_\_\_\_

\_\_\_\_\_ Da quando? \_\_\_\_\_

\_\_\_\_\_/2

5- Osserva lo schema e completalo:



\_\_\_ /12

6- Il **Parlamento**: scrivi alcune informazioni \_\_\_\_\_

---



---



---



---

\_\_\_ /3

7- Il **Governo**: scrivi alcune informazioni \_\_\_\_\_

---



---



---



---

\_\_\_ /3

8- Chi è l'attuale presidente della Repubblica? \_\_\_\_\_

Ogni quanto viene eletto? \_\_\_\_\_ Da chi? \_\_\_\_\_

Quanti anni dura in carica? \_\_\_\_\_

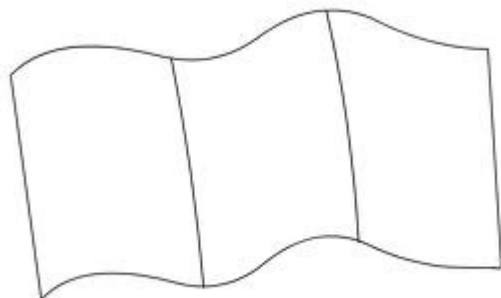
Scrivi un compito del Presidente della Repubblica: \_\_\_\_\_

---

\_\_\_ /5

9- Inno Italia \_\_\_\_\_ Festa della Repubblica \_\_\_\_\_

Colora:



\_\_\_/3

10- Nell'articolo 5 della Costituzione Italiana si dice che: "La Repubblica, una e indivisibile, riconosce e promuove le autonomie locali", cioè significa che l'Italia è suddivisa in : \_\_\_\_\_, \_\_\_\_\_ e \_\_\_\_\_

\_\_\_/3

11- Scegli il numero giusto e completa:

Le \_\_\_\_\_ italiane sono:            109            20            15            105

Le \_\_\_\_\_ italiane sono:            153            109            20            1.000

I \_\_\_\_\_ italiani sono:            circa 1.000            meno di 1.000            più di 8.000

\_\_\_/3

12- Osserva la Cartina dell'Italia Politica e completa con i nomi mancanti:



\_\_\_/12

13- Abbina le regioni con il capoluogo:

LOMBARDIA → \_\_\_\_\_ TRENTINO ALTO ADIGE → \_\_\_\_\_

TOSCANA → \_\_\_\_\_ CAMPANIA → \_\_\_\_\_

VALLE D'AOSTA → \_\_\_\_\_ FRIULI VENEZIA GIULIA → \_\_\_\_\_

SICILIA → \_\_\_\_\_ CALABRIA → \_\_\_\_\_

PIEMONTE → \_\_\_\_\_ VENETO → \_\_\_\_\_

LIGURIA → \_\_\_\_\_ EMILIA-ROMAGNA → \_\_\_\_\_

UMBRIA → \_\_\_\_\_ ABRUZZO → \_\_\_\_\_

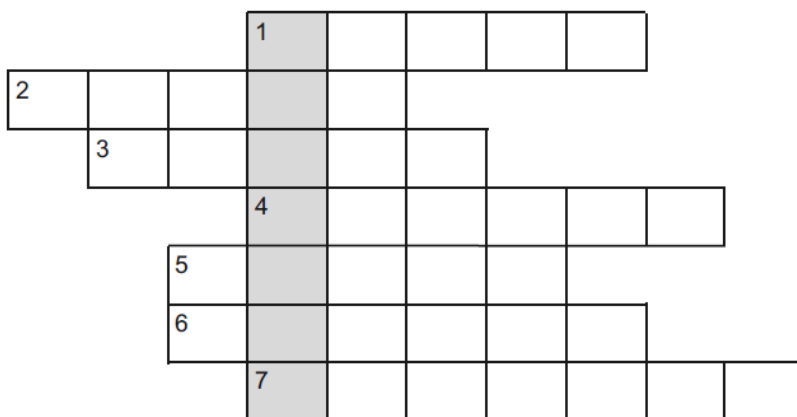
\_\_\_\_/14

14- Guardando la cartina dell'Italia individua la regione:

- E' una regione del Nord, confina con Piemonte, Trentino, Veneto, Emilia Romagna e Svizzera: \_\_\_\_\_
- E' un'isola, è la più estesa, ha capoluogo Palermo \_\_\_\_\_
- E' una regione del sud, confina con Molise, Campania, Basilicata, Mar Ionio e Mar Adriatico: \_\_\_\_\_
- E' una regione dell'Italia centrale, confina con Emilia Romagna, Toscana, Umbria, Lazio, Abruzzo, Mar Adriatico: \_\_\_\_\_
- Confina con Emilia Romagna, Toscana, Piemonte, Mar Ligure: \_\_\_\_\_
- Confina con Toscana, Marche, Lazio: \_\_\_\_\_

\_\_\_\_/6

15- Completa il cruciverba e scrivi la parola nascosta:



1. La regione con la città capitale d'Italia.
2. Fra Abruzzo e Puglia.
3. È il 'tacco' dello Stivale.
4. L'unica regione dell'Italia Centrale che non è bagnata dal mare.
5. Forma una regione insieme alla Venezia Giulia.
6. La regione più a sud.
7. A Nord del Molise

La parola nascosta è \_\_\_\_\_ /8

16- In Italia alcune Regioni sono definite a \_\_\_\_\_  
perché \_\_\_\_\_

Esse sono \_\_\_\_\_

\_\_\_\_/7