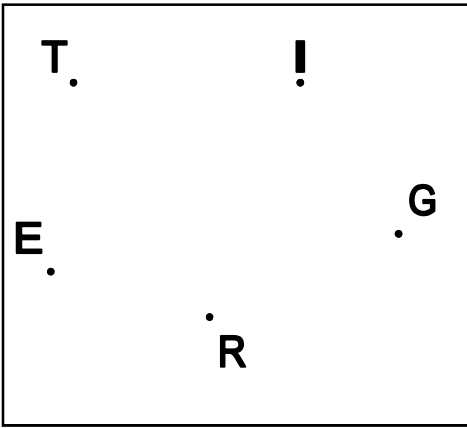


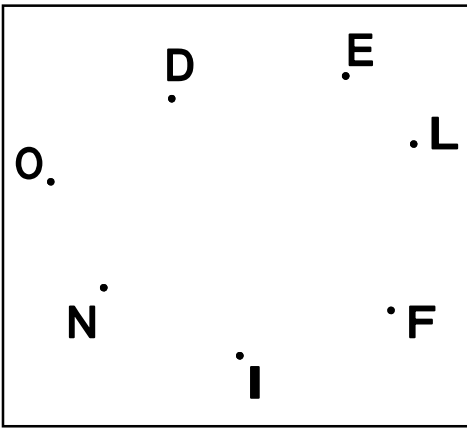
Partendo dal vertice C congiungi i punti in modo da formare il poligono CANE e coloralo di AZZURRO.

- Quali sono i vertici del poligono?.....
- Quali sono i vertici consecutivi al vertice A?.....
- Quale è il vertice opposti a G?.....
- Quale vertice è consecutivo al vertice C e al vertice N?.....
- Quali sono i lati del poligono?.....
- Quali lati sono consecutivi al lato NE?.....
- Quale lato è opposto a EC?.....



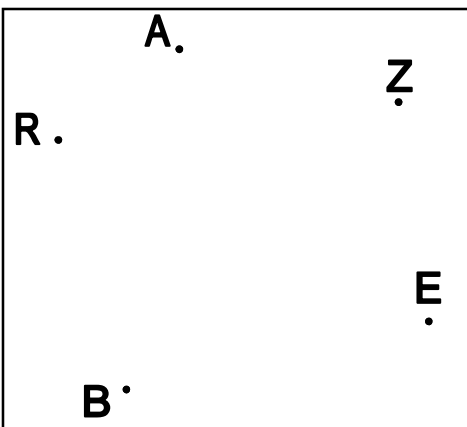
Partendo dal vertice T congiungi i punti in modo da formare il poligono TIGRE e coloralo di giallo.

- Quali sono i vertici del poligono?.....
- Quali sono i vertici consecutivi al vertice R?.....
- Quali sono i vertici opposti a G?.....
- Quale vertice è consecutivo al vertice I e al vertice R?.....
- Quali sono i lati del poligono?.....
- Quali sono i lati consecutivi a TE?.....
- Quali sono i lati opposti a GR?.....



Partendo dal vertice D congiungi i punti in modo da formare il poligono DELFINO e coloralo di rosa.

- Quali sono i vertici del poligono?.....
- Quali sono i vertici consecutivi al vertice I?.....
- Quali sono i vertici opposti a N?.....
- Quale vertice è consecutivo al vertice D e al vertice L?.....
- Quali sono i lati del poligono?.....
- Quali sono i lati consecutivi a FI?.....
- Quali sono i lati opposti a NO?.....



Partendo dal vertice Z congiungi i punti in modo da formare il poligono ZEBRA e coloralo di giallo.

- Quali sono i vertici del poligono?.....
- Quali sono i vertici consecutivi al vertice A?.....
- Quali sono i vertici opposti a E?.....
- Quale vertice è consecutivo al vertice B e al vertice A?.....
- Quali sono i lati del poligono?.....
- Quali sono i lati consecutivi a EB?.....
- Quali sono i lati opposti a BR?.....