


VERIFICA DI GEOMETRIA

1. Dai la definizione di poligono:

Un poligono è.....

2. Colora solo i poligoni:



3. Collega con una freccia:

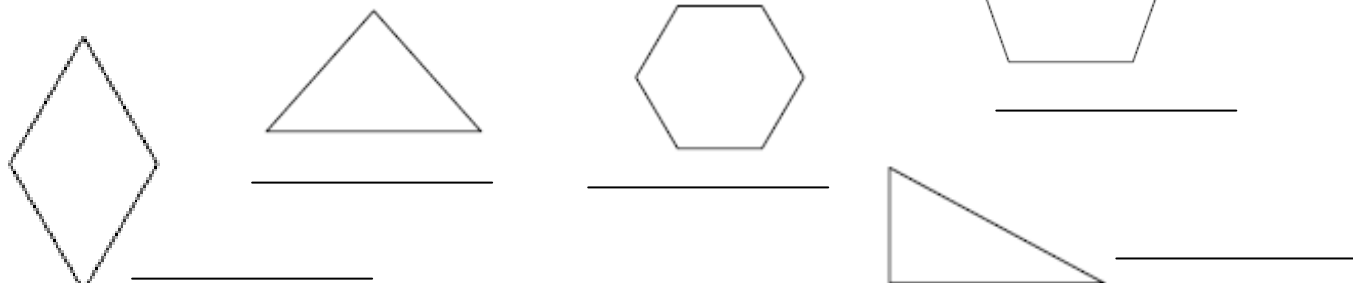
NOME POLIGONO

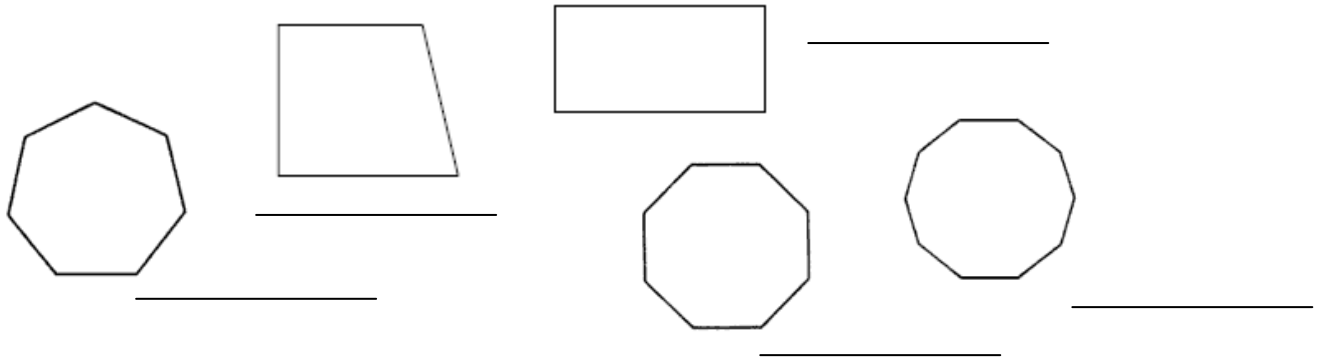
- Triangolo
- Quadrilatero
- Pentagono
- Esagono
- Ottagono
- Decagono
- Ettagono
- Dodecagono
- Ennagono

NUMERO DEI LATI

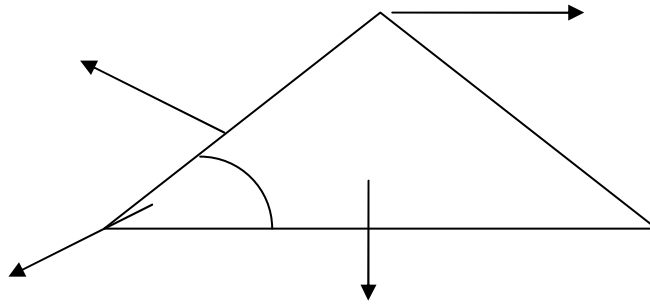
- 5
- 3
- 4
- 10
- 7
- 8
- 6
- 9
- 12

4. Definisci i seguenti poligoni scrivendo i loro nomi:





5. Scrivi il nome delle parti di un poligono:



6. Definisci la parola perimetro:

Il perimetro di un poligono è.....

7. Calcola il perimetro dei poligoni dati:

POLIGONO	MISURE	FORMULA PERIMETRO	CALCOLO
	$AB = 4 \text{ cm}$ $BC = 5 \text{ cm}$ $CD = 2 \text{ cm}$ $DA = 6 \text{ cm}$	_____	_____
	$AB = CD = 5 \text{ cm}$ $CB = DA = 3 \text{ cm}$	_____	_____
	$AB = 4 \text{ cm}$ $CB = CA = 6 \text{ cm}$	_____	_____
	$AB = BC = CD = DA = 4 \text{ cm}$	_____	_____